

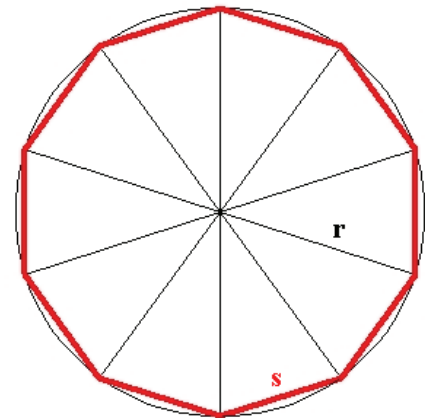
Konstruktion eines regelmäßigen Zehnecks

Konstruieren Sie in einen Kreis mit Radius r ein regelmäßiges Zehneck (ohne Winkelmesser, nur mit Zirkel und Lineal).

Zeigen Sie außerdem, dass die Seiten-/Kantenlänge s im Verhältnis zum Radius einen Goldenen Schnitt bildet, d.h.

$$\frac{r}{s} = \frac{s}{r-s}$$

(entnommen dem Buch „Mathematik verstehen – eine Lern- und Übungshilfe auf dem Weg zum Abitur und darüber hinaus“ von Wolfgang Kuhn, erschienen im Pro BUSINESS Verlag, Berlin, 2010, ISBN 978-3-86805-537-5)



Lösung:

Zur Lösung verfahren wir wie bei der Konstruktion des Goldenen Schnitts, d.h. wir zeichnen im Punkt E die Senkrechte auf \overline{ME} mit halbem Radius $r/2$, ziehen dann den Kreis um F mit $r/2$, der die Hilfslinie \overline{MF} im Punkt S schneidet.

Die Strecke $\overline{MS} = s$ bezeichnen wir mit s . Diese bildet, wie wir sehen werden die Kantenlänge des regelmäßigen Zehnecks.

Zum Beweis stellen wir zunächst fest: für ein regelmäßiges Zehneck gilt, dass der Innenwinkel jedes gleichschenkeligen Dreiecks in diesem Zehneck

$$\alpha = \frac{360}{10} = 36^\circ \text{ beträgt.}$$

Für die beiden Außenwinkel muss dann gelten:

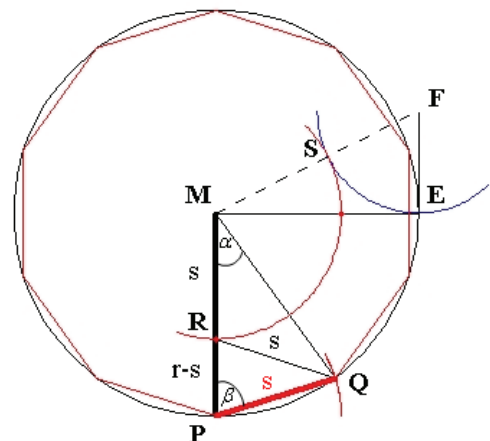
$$\beta = \frac{1}{2}(180 - \alpha) = \frac{1}{2} \cdot 144 = 72^\circ.$$

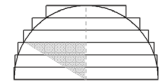
Den Punkt R konstruieren wir, indem wir die Winkelhalbierende des Außenwinkels β ($\angle PQM$) konstruieren, welche die Strecke \overline{MP} im Punkt R schneidet.

Für den Winkel $\angle PQR$ gilt dann : $\frac{1}{2} \cdot \beta = \frac{1}{2} \cdot 72 = 36 = \alpha$.

Damit ist das Dreieck $\triangle PQR$ ebenfalls gleichschenkelig, da der Winkel $\angle PRQ$ jetzt ebenfalls

72° beträgt. Damit gilt: $\overline{QR} = \overline{PQ}$. Andererseits ist auch das Dreieck $\triangle MRQ$ gleichschenkelig,





denn der Winkel $\sphericalangle RQM$ ist ja ebenfalls 36° , also gleich α . Damit muss die Strecke \overline{MR} identisch mit \overline{QR} sein, und wir schließen: $\overline{PQ} = \overline{QR} = \overline{MR}$.

Wegen der Übereinstimmung aller drei Winkel sind jetzt die Dreiecke $\triangle PQM$ und $\triangle RPQ$ ähnlich.

Folglich ist der Strahlensatz anwendbar, und es gilt:

$$\frac{\overline{MP}}{\overline{QR}} = \frac{\overline{PQ}}{\overline{RP}} \quad \text{und wegen } \overline{QR} = \overline{PQ} \text{ bzw. } \overline{MR} = \overline{PQ} \text{ also: } \frac{\overline{MP}}{\overline{PQ}} = \frac{\overline{PQ}}{\overline{MP} - \overline{MR}} \text{ bzw. } \frac{\overline{MP}}{\overline{MR}} = \frac{\overline{MR}}{\overline{MP} - \overline{MR}}.$$

Es gilt also für die Streckenteilung der Goldene Schnitt, mit anderen Worten $\frac{r}{s} = \frac{s}{r-s}$, was zu

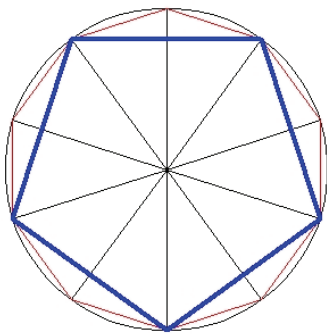
beweisen war. Das regelmäßige Zehneck lässt sich also, wie beschrieben, nur mit Zirkel und Lineal konstruieren. Beginnend im Punkt P zeichnen wir auf dem Kreis mit Radius r, zehnmal entgegen dem Uhrzeigersinn die Strecke $s = \overline{MS} = \overline{MR}$ ab und erhalten so die Ecken des regelmäßigen Zehnecks.

Für die Kantenlänge ergibt sich aus obiger Formel $\frac{r}{s} = \frac{s}{r-s}$, $r(r-s) = s^2$ und daraus $s^2 + rs = r^2$.

Mittels quadratischer Ergänzung folgt $s^2 + rs + \left(\frac{r}{2}\right)^2 = r^2 + \left(\frac{r}{2}\right)^2$, also

$$s = -\frac{r}{2} \pm \frac{r}{2}\sqrt{5}. \quad \text{Da } s \text{ nicht negativ sein kann: } s = \frac{r}{2}(\sqrt{5} - 1).$$

Es lässt sich unschwer erkennen, dass sich aus der Konstruktion ebenfalls das regelmäßige Fünfeck ableiten lässt, für dessen Kantenlänge dann nach Pythagoras gilt:



$\left(\frac{s_5}{2}\right)^2 = s^2 - \left(\frac{r-s}{2}\right)^2$, da der Außenwinkel im Fünfeck 54° beträgt, somit die halbe Kantenlänge mit der Höhe bzw. Seitenhalbierenden im Dreieck $\triangle RPQ$ (siehe oben in der Grafik zum regelmäßigen Zehneck) zusammenfällt und so die Strecke $\overline{RP} = r-s$ halbiert.

Einsetzung von s und erneut quadratische Ergänzung führt zum Ergebnis $s_5 = r\sqrt{\frac{5-\sqrt{5}}{2}}$.

Zum Schluss sei noch angemerkt, dass in jedem regelmäßigen Vieleck (Polygon) für die Summe der Winkel gilt: $\sum_{i=1}^n \alpha_i = (n-2) \cdot 180$. In einem Quadrat wären das, wie bekannt, 360; in einem Fünfeck 540 und einem Siebeneck 900. Gegeben sei ein n-Eck; dann gilt, wie wir gesehen haben, für einen Außenwinkel: $\beta = \frac{1}{2}\left(180 - \frac{360}{n}\right)$ oder $2\beta = 180 - \frac{360}{n}$. In einem regelmäßigen n-Eck gibt es den Winkel 2β genau n-mal; d.h. $\alpha_i = 2\beta$ für alle $i = 1, \dots, n$ bzw. $n \cdot 2\beta = n\left(180 - \frac{360}{n}\right) = n \cdot 180 - 360 = 180 \cdot (n-2)$. Dasselbe Ergebnis erhält man auch für die Summe aller Winkel in einem beliebigen, unregelmäßigen n-Eck.